

Qdrat Platform

منصة قدرات

Qdrat Platform



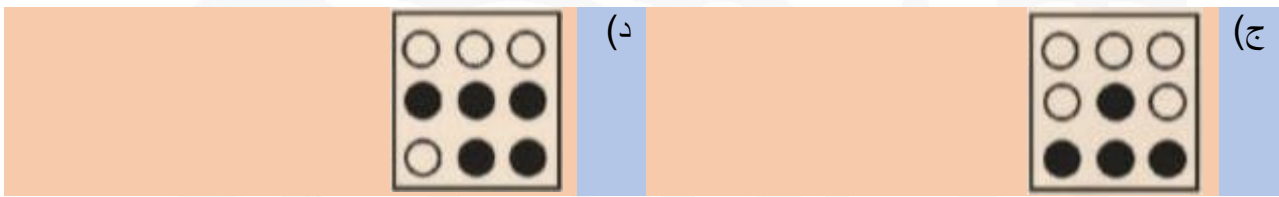

QDRAT



المادة: قدرات الجامعيين - الأشكال

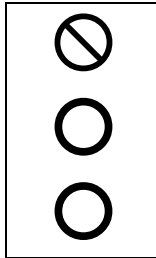
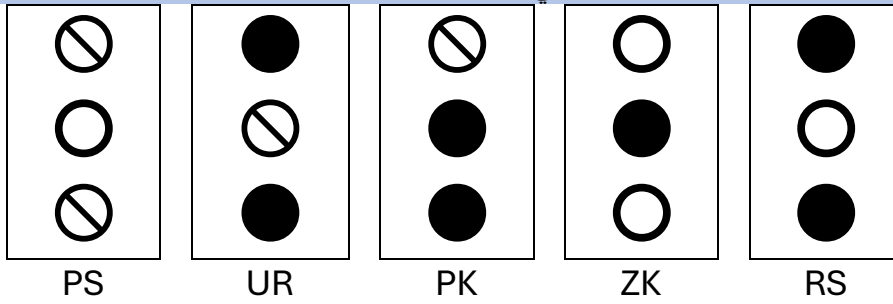
المدرّب محمود معتوق النمري

1) ما هو الشكل المكمل للشكل التالي؟



الحل (ج)

2) إذا كان كل شكل يعبر عنه بحرفين كما يلي:



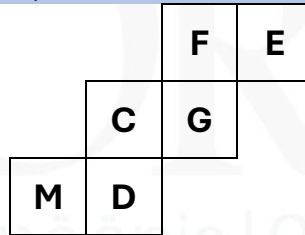
أوجد الحرفين اللذين يعبران عن الشكل المجاور

أ) ZR (ب) UZ

ج) PK (د) UP

الحل (ب)

3) إذا طويينا الشكل التالي وحصلنا على مكعب، فما الحرف الذي سيكون مقابل C؟



أ) E (ب) G

ج) M (د) D

الحل (أ)

4) هناك علاقة منطقية بين الأشكال باستثناء شكل واحد، ما هو؟



الحل (ب)

(5) أوجد قيمة الشكل التالي:

$$7 = \square\square + \triangle$$

$$8 = \square + \triangle\triangle$$


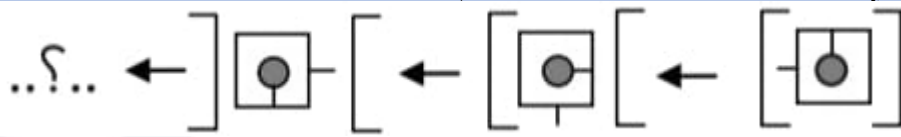
$$? = \square + \triangle$$

(أ) 5 (ب) 6

(ج) 7 (د) 8

الحل (أ)

(6) ما الشكل الذي يجب وضعه مكن علامة الاستفهام؟



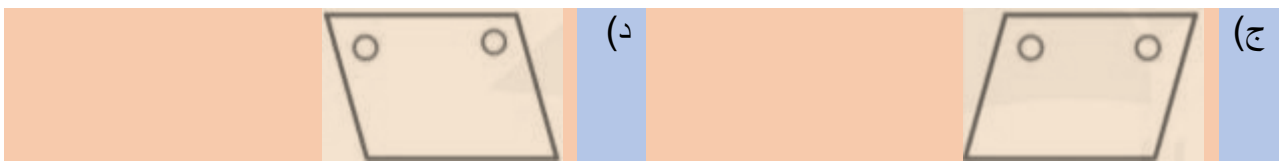
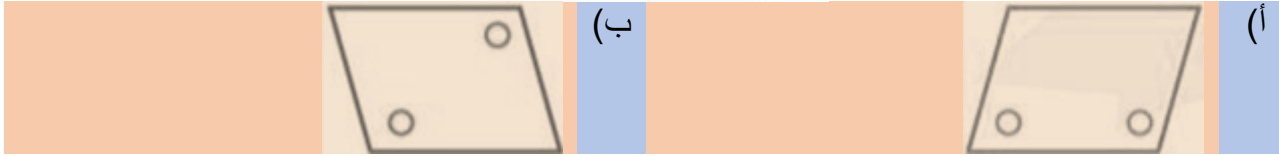
الحل (د)

(7) أوجد الشكل التالي في النمط:



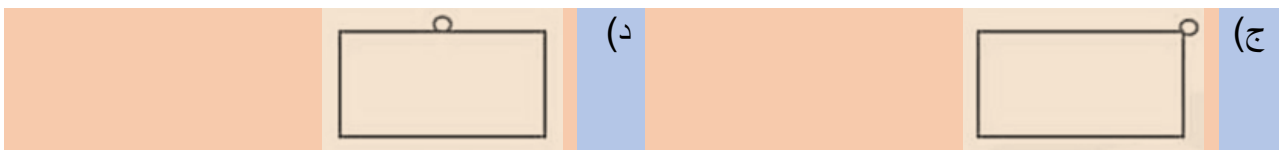
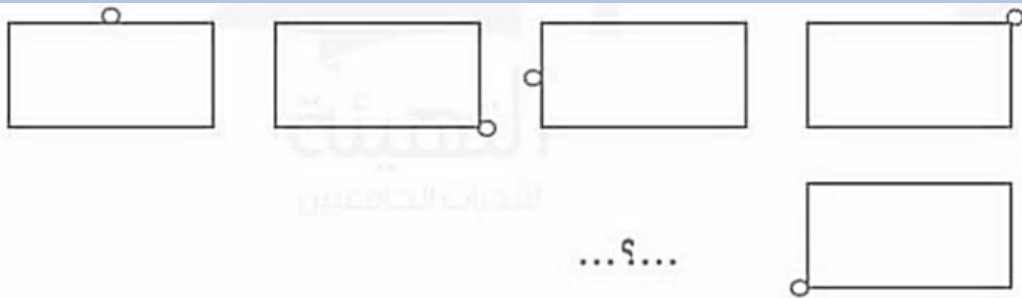
الحل (د)

8) ما صورة الشكل التالي بالانعكاس في المرآة؟



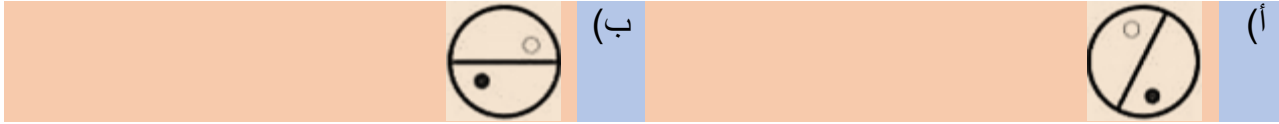
الحل (د)

9) وفق العلاقة أدناه، ما الشكل الناقص؟



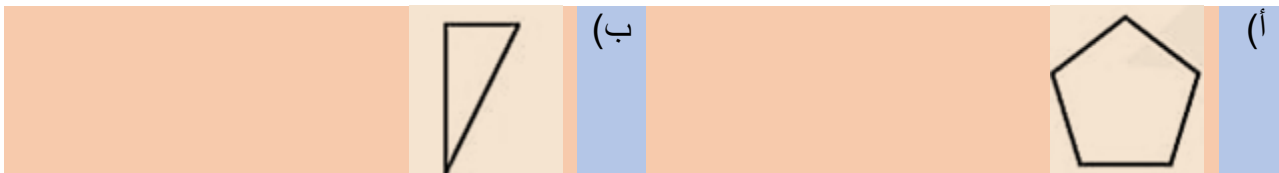
الحل (أ)

10) أكمل الشكل؟



الحل (ج)

11) أوجد الشكل المختلف في الأشكال التالية؟



الحل (ب)